

प्रारम्भिक शिक्षा में डिप्लोमा (सामान्य / संस्कृत)

प्रवेश परीक्षा

2.

मॉडल टेस्ट पेपर

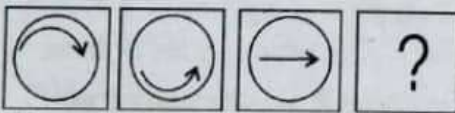
मानसिक अभियोग्यता

निर्देश: प्रश्न संख्या 1-2 तक में दिए गए उत्तर विकल्पों में से किससे शृंखला पूरी होगी-

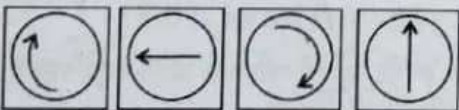
- 625, 586, 547, 508, ?
(A) 308 (B) 437 (C) 469 (D) 498
- 25, 32, 40, 49, 59, ?
(A) 69 (B) 70 (C) 80 (D) 92
- यदि BDF को YWD लिखा जाता है तो उसी कूट में CEG को कैसे लिखेंगे-
(A) WUS (B) YWU (C) ZXZ (D) WVT
- यदि ROSE को QPRF लिखा जाता है, CHILD को BIHML लिखा जाता है, तो उसी भाषा में GIRL को कैसे लिखेंगे-
(A) FJQM (B) HJPK (C) FJQK (D) HJQM
- मैं किसी पार्टी में परसों गया, तो पता चला कि मैं 3 दिन लेट हूँ, यदि कल बृहस्पतिवार हो तो, पार्टी कब आयोजित की गई थी-
(A) रविवार (B) शुक्रवार (C) सोमवार (D) शनिवार

निर्देश: (प्र. 6-7) प्रश्न एवं उत्तर आकृतियाँ दी गई हैं। आपको यह देखना है कि पहली प्रश्न आकृति और दूसरी प्रश्न आकृति के बीच जो संबंध है, वही संबंध तीसरी प्रश्न आकृति के साथ उत्तर आकृतियों में से किस आकृति के साथ है। उत्तर आकृतियों में वह चौथी आकृति चुनिए, जिसका संबंध तीसरी आकृति से वही है, जो पहली और दूसरी आकृति के बीच है।

6. प्रश्न आकृतियाँ

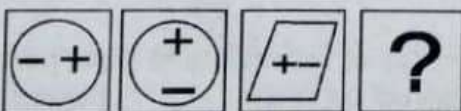


उत्तर आकृतियाँ

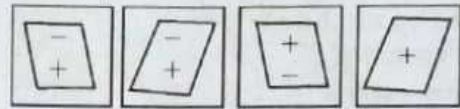


(A) (B) (C) (D)

7. प्रश्न आकृतियाँ



उत्तर आकृतियाँ



(A) (B) (C) (D)

- आकाश जैसे संबंधित है धरती से, वैसे ही छत से संबंधित है-
(A) फर्श/धरातल (B) दीवारें (C) ऊँचाई (D) शीर्षतल
- जैसे ताला, ताली से वैसे ही पंखा :
(A) गर्मी (B) स्विच (C) बिजली (D) हवा
- चार सड़कें हैं, मैं दक्षिण से आया हूँ और रेलवे स्टेशन जाना चाहता हूँ। दायाँ ओर की सड़क अस्पताल जाती है और सीधे आगे बढ़कर यह मुझे बस स्टैंड ले जाती है। रेलवे स्टेशन किस दिशा में है-
(A) पूर्व (B) उत्तर-पूर्व (C) पश्चिम (D) दक्षिण
- आज शनिवार है, 27 दिन बाद सप्ताह का कौनसा दिन होगा-
(A) शुक्रवार (B) सोमवार (C) बुधवार (D) शनिवार
- यदि आठ हजार आठ सौ आठ रुपए इस प्रकार 8808 लिखे जाते हैं तो तेरह हजार तेरह सौ तेरह रुपए कैसे लिखे जाएंगे-
(A) 14313 (B) 131313 (C) 13013 (D) 13313
- ए, बी से बड़ा है, सी, डी से छोटा है, डी, बी से बड़ा है लेकिन ए से छोटा है, सबसे बड़ा कौन है-
(A) बी (B) ए (C) डी (D) सी

निर्देश: प्रश्नों में वह सांख्यिक युगल ज्ञात करें, जो किसी समान गुण के न होने के कारण समूह में सम्मिलित नहीं किए जा सकते हैं।

- (A) 25, 32 (B) 30, 22 (C) 47, 40 (D) 61, 68
- (A) 16, 7 (B) 36, 27 (C) 64, 18 (D) 100, 125

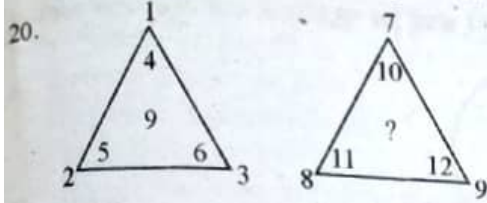
निर्देश: प्रश्न में अंकों की शृंखला को कौनसा विकल्प पूरा करता है-

- अनन्नास : खरबूजा :: शरीफा : ?
(A) अंगूर (B) स्ट्राबरी (C) तरबूज (D) अनार
- प्रधानमंत्री : कप्तान :: मंत्रिमण्डल : ?
(A) जहाज (B) टीम (C) हवाई जहाज (D) बॉस

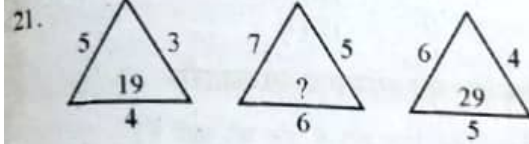
निर्देश: प्रश्न में अंकों की शृंखला को कौनसा विकल्प पूरा करता है-

- 8 : 20 :: 14 : ?
(A) 35 (B) 30 (C) 28 (D) 20
- 3 : 27 :: 5 : ?
(A) 9 (B) 125 (C) 29 (D) 51

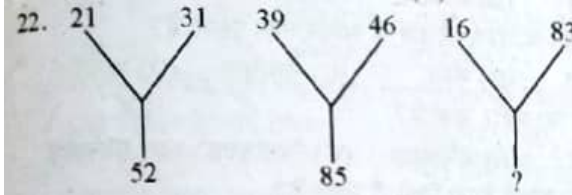
निर्देश: प्रश्न चिह्न के स्थान पर उपयुक्त संख्या भरिए-



- (A) 9 (B) 1
(C) 19 (D) 14



- (A) 25 (B) 47 (C) 37 (D) 41



- (A) 92 (B) 72 (C) 62 (D) 99

23. शंकर सलीम से छोटा है, किन्तु सिमॉन से बड़ा है। सुरेश, सलीम से छोटा है, किन्तु शंकर से बड़ा है। सबसे बड़ा कौन है-

- (A) शंकर (B) सलीम (C) सुरेश (D) सिमॉन

24. एक बैंच पर पाँच बच्चे [क, ख, ग, घ तथा ड.] बैठे हैं। क और ड. किनारे नहीं बैठना चाहते, एवं ख और घ, ग के पास नहीं बैठना चाहते तो 'घ' के दोनों तरफ कौन बैठे होंगे-

- (A) ख और ड. (B) क और ड. (C) ख और ग (D) ख और क

25. राम 16 साल का है तथा राजीव 18 साल का है। कितने वर्ष बाद उनकी उम्र का योग 46 साल हो जाएगा-

- (A) 9 साल (B) 6 साल (C) 8 साल (D) 12 साल

26. यदि $2 \times 3 = 36$, $5 \times 4 = 400$, $6 \times 2 = 144$, $3 \times 3 = 81$ तो $5 \times 5 = ?$

- (A) 225 (B) 625 (C) 10 (D) 25

27. शृंखला में छूटे हुए अक्षर हैं-

_ a b _ b _ a b a _ _ a b a b

- (A) a b b a a (B) b b a a b (C) a b a a b (D) a a a b a

28. दिए गए विकल्पों में से लुप्त अंक ज्ञात कीजिए।

1, 3, 7, 15, 31, 63, 127, ?

- (A) 275 (B) 350 (C) 255 (D) 260

29. दिए गए विकल्पों में से लुप्त अंक ज्ञात कीजिए।

4, 16, 36, ?, 100

- (A) 48 (B) 52 (C) 56 (D) 64

30. विषम का चयन कीजिए-

- (A) पत्ती (B) तना (C) शाखाएं (D) बाग (उद्यान)

31. दिए गए विकल्पों में से उस विकल्प का चयन कीजिए जो दिए गए तीन शब्दों की श्रेणी में आता है।

बवासीर, मधुमेह, बुखार

- (A) नेत्रहीन (B) मूक (C) सरदर्द (D) लंगड़ापन

32. दिए गए विकल्पों में से उस विकल्प का चयन कीजिए जो दिए गए तीन शब्दों की श्रेणी में आता है।

मग, कप, गिलास

- (A) बाल्टी (B) कांटा
(C) प्लेट (थाली) (D) तश्तरी

33. दिए गए विकल्पों में से सार्थक आरोही क्रम चुनिए-

1. इलाज 2. डॉक्टर 3. रोग

4. निदान 5. औषधि

- (A) 3,2,1,5,4 (B) 2,4,3,5,1
(C) 4,3,2,5,1 (D) 4,2,3,5,1

34. दिए गए विकल्पों में से सार्थक आरोही क्रम चुनिए-

1. पेड़ 2. बीज 3. फूल

4. फल 5. पौधा

- (A) 4,2,3,5,1 (B) 1,4,2,3,5
(C) 2,5,1,3,4 (D) 2,1,3,4,5

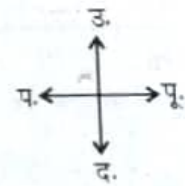
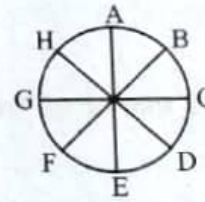
35. कौन-सा शब्द, शब्दकोश में तीसरे स्थान पर आएगा?

- (A) Gastritis (B) Gatecrash
(C) Gauntlet (D) Garrison

36. दिए गए शब्दों में से कौन-सा शब्द शब्दकोष में तीसरे स्थान पर आएगा?

- (A) Hick (B) Hide (C) High (D) Hay

37. आठ व्यक्ति A, B, C, D, E, F, G और H दी गई आकृति के अनुसार बाहर की तरफ मुंह करके बैठे हैं। यदि वे सब के सब तीन स्थानों तक वामावर्त (Anti Clockwise) घूमते हैं, तो -



(A) B का मुंह पश्चिम की ओर होगा।

(B) E का मुंह पूर्व की ओर होगा।

(C) H का मुंह उत्तर-पश्चिम की ओर होगा।

(D) A का मुंह दक्षिण की ओर होगा।

38. काथिर, गणेश का वरिष्ठ है। गणेश, अप्पारू से वरिष्ठ है। अप्पारू, राजू से कनिष्ठ है। राजू, गणेश से कनिष्ठ है। सबसे वरिष्ठ कौन है?

- (A) गणेश (B) राजू (C) काथिर (D) अप्पारू

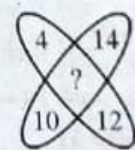
39. K, B से ज्यादा सुंदर है। B, Y के समान सुंदर नहीं है। J, B या Y के समान सुंदर नहीं है। तदनुसार, सुंदरता की कोटि में सबसे निचले स्तर पर कौन है?

- (A) B (B) J (C) Y (D) K

40. पांच लड़के एक पंक्ति में बैठे हुए हैं। 'ए' 'बी' के दाएं हैं, 'ई' 'बी' के बाएं हैं, परंतु 'सी' के दाएं हैं। यदि 'ए', 'डी' के बाएं हैं तो बीच में कौन बैठा हुआ है?

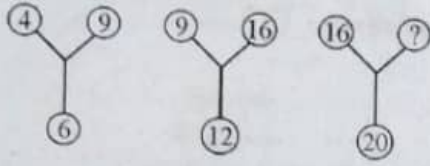
- (A) ई (B) बी (C) ए (D) सी

41. प्रश्न में लुप्त संख्या ज्ञात कीजिए-



- (A) 36 (B) 48 (C) 38 (D) 30

42. प्रश्न में लुप्त संख्या ज्ञात कीजिए—



- (A) 21 (B) 25 (C) 50 (D) 60

43. यदि JACOB को QZXLY के रूप में लिखा जा सकता है, तो KENDY को कैसे लिखा जाएगा?

- (A) PVWMA (B) PVMWB
(C) PUMWB (D) PYMWA

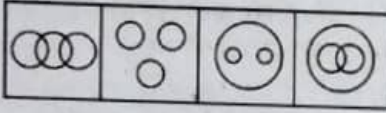
44. यदि किसी महीने की 2 तारीख रविवार को पड़ती है, तो उसी महीने की 31 तारीख को कौन-सा दिन होगा?

- (A) बुधवार (B) शनिवार (C) शुक्रवार (D) सोमवार

45. A की माता B के पिता की एकमात्र पुत्री है। B की पत्नी से A का क्या संबंध है?

- (A) माँ (B) मामी (C) बहिन (D) नानी

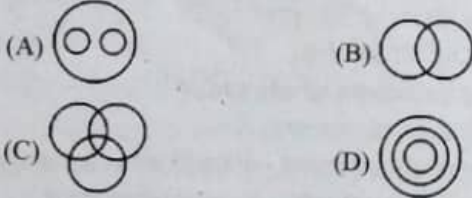
46. निम्नलिखित में से कौन सी आकृति नागरिकों, शिक्षित और लोगों के बीच का सम्बन्ध दर्शाती है?



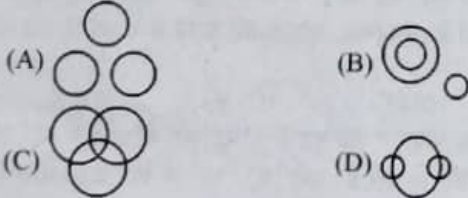
- (A) (B) (C) (D)

47. वह आरेख चुनिए जो नीचे दिए वर्गों के बीच संबंध का सही निरूपण करता है।

चाय, कॉफी, पेय



48. निम्नलिखित में से कौन सी आकृति कुत्ता, बिल्ली और पालतू पशु का संबंध दर्शाती है?



49. निम्न कथन एवं निष्कर्ष के आधार पर सही विकल्प का चयन करें—

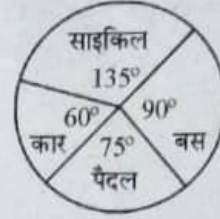
कथन : I. सभी तस्वीरें चित्रकला हैं।
II. कोई चित्रकला सस्ती नहीं है।

निष्कर्ष : I. कोई तस्वीर सस्ती नहीं है।

II. सभी चित्रकलाएँ तस्वीरें भी हैं।

- (A) केवल II निहित है। (B) I और II दोनों निहित हैं।
(C) केवल I ही निहित है। (D) I और II दोनों निहित नहीं हैं।

50. किसी कॉलोनी से 48 छात्र एक पब्लिक स्कूल में जाते हैं। नीचे दिए गए पाई-चार्ट की मदद से बताएँ कि कुल कितने छात्र स्कूल पैदल जाते हैं?



- (A) 12 (B) 10
(C) 18 (D) 8

राजस्थान की सामान्य जानकारी

51. किस सम्प्रदाय में कृष्ण की बाल रूप में पूजा की जाती है?
(A) वल्लभ (B) निम्बार्क (C) वैष्णव (D) गौड़ीय
52. किस जनजाति के पुरुष-स्त्रियों के समान गहने पहनते हैं?
(A) सहरिया (B) भील (C) गरसिया (D) डामोर
53. त्रिपुरा सुंदरी का मंदिर कहाँ है?
(A) बाड़मेर (B) बाँसवाड़ा (C) चित्तौड़गढ़ (D) झालावाड़
54. बच्छावर्ता की हवेली किस जिले में स्थित है?
(A) झुंझुनू (B) सीकर (C) जैसलमेर (D) बीकानेर
55. भोमट भील आंदोलन के प्रवर्तक—
(A) गोविन्द गिरि (B) माणिक्य लाल वर्मा
(C) मोतीलाल तेजावत (D) भोगीलाल पाण्ड्या
56. निम्न में से असंगत है—
(A) पृथ्वीराज विजय - जयानक
(B) भाषा भूषण - जसवंत सिंह
(C) हरिकेलि - विग्रहराज चतुर्थ
(D) ढोलामारू री चौपाई - कन्हैया लाल
57. 'धरती धोरा री' राजस्थानी कविता के लेखक हैं—
(A) कन्हैया लाल सेठिया (B) भरत व्यास
(C) मेघराज मुकुल (D) रांगेय राघव
58. 'देवल' है—
(A) महल (B) स्मारक (C) मंदिर (D) मस्जिद
59. राजस्थान स्कूल ऑफ आर्ट्स एण्ड क्राफ्ट स्थित है—
(A) जयपुर (B) कोटा (C) अजमेर (D) उदयपुर
60. सुनहरी कोठी स्थित है—
(A) जयपुर (B) टोंक (C) अजमेर (D) उदयपुर
61. मेवाड़ का उद्धारक कहा जाता है—
(A) हम्मीर सिसोदिया (B) राणा कुम्भा
(C) राणा सांगा (D) महाराणा प्रताप
62. औरंगजेब ने 'महाराजा' व 'माहीभरातिव' की उपाधियाँ किसे प्रदान कीं?
(A) जसवंत सिंह (B) रायसिंह
(C) उदयसिंह (D) अनूप सिंह
63. राजस्थान में पत्रकारिता के भीष्म पितामह कहे जाते हैं—
(A) रामगोपाल विजयवर्गीय (B) चांदमल सुराणा
(C) झाबरमल शर्मा (D) जय नारायण व्यास
64. किशनगढ़ प्रजामण्डल की स्थापना कब हुई?
(A) 1931 (B) 1936 (C) 1939 (D) 1944

65. 'ग्रास रूट डेमोक्रेसी' कहा जाता है-
 (A) राज्य की औद्योगिक संस्थाओं को (B) तहसील कार्यालयों को
 (C) नगरीय स्वशासन को (D) पंचायती राज संस्थाओं को
66. ग्राम सभा के सदस्य होते हैं-
 (A) सरपंच, उप-सरपंच एवं पंच
 (B) सरपंच एवं ग्रामसेवक
 (C) ग्राम पंचायत क्षेत्र की निर्वाचक नामावली के पंजीकृत मतदाता
 (D) प्रधान, सरपंच एवं उप सरपंच
67. 'करौली प्रजामण्डल' की स्थापना की गई :
 (A) नयनूराम शर्मा के द्वारा (B) मीठालाल व्यास के द्वारा
 (C) बलवन्त सिंह मेहता के द्वारा (D) त्रिलोक चन्द माथुर के द्वारा
68. राज्यपाल अपना त्याग-पत्र किसे सौंपता है ?
 (A) मुख्यमंत्री (B) प्रधानमंत्री
 (C) विधानसभा अध्यक्ष (D) राष्ट्रपति
69. गवरी देवी राजस्थान की किस लोक संगीत गायन शैली से जुड़ी हुई है ?
 (A) लंगा (B) मांगणियार (C) माँड (D) तालबन्दी
70. राष्ट्रीय पुरस्कार प्राप्त मोहनलाल किस शिल्प से संबंधित है ?
 (A) मोलेला मृण्मूर्ति शिल्प (B) थेवा कला
 (C) ब्लू पॉटरी (D) हाथी दाँत कला
71. 'सतबीस देवरी' स्थित है-
 (A) उदयपुर (B) चित्तौड़गढ़ (C) जोधपुर (D) सिरौही
72. 'भंग का जादूगर' कहा जाता है-
 (A) कमल साकर खॉं (B) सद्दीक खां मांगणियार
 (C) जहूर खॉं मेवाती (D) पं. जसराज
73. सुमेलित कीजिए-

हवेलियाँ	जिला
(a) ईसरदास मोदी की हवेली	1. सीकर
(b) मंत्रियों की हवेली	2. उदयपुर
(c) बागोर की हवेली	3. झुंझुनूं
(d) पंसारी की हवेली	4. चूरू

कूट :	(a)	(b)	(c)	(d)
(A)	1	2	3	4
(B)	3	1	4	2
(C)	2	4	1	3
(D)	3	4	2	1

74. राजस्थान की किस लोक देवी को खेजड़ बेरी राय भवानी कहा जाता है ?
 (A) तनोट देवी (B) सचियाय माता
 (C) लटियाल माता (D) घेवर माता
75. भैया दूज का पर्व कब मनाया जाता है ?
 (A) कार्तिक शुक्ला 2 (B) कार्तिक कृष्णा 2
 (C) आश्विन शुक्ला 2 (D) आश्विन कृष्णा 2
76. राजस्थान में प्रथम पंचायती राज अधिनियम किस देशी रियासत ने पारित किया था ?
 (A) अजमेर (B) जयपुर (C) बीकानेर (D) जोधपुर
77. राज्य में मधुमक्खी पालन की सर्वाधिक संभावनाएं किस जिले में है ?
 (A) सीकर (B) भरतपुर (C) दौसा (D) जयपुर
78. राज्य में 'हरित राजस्थान योजना' क्रियान्वित की जा रही है इसका उद्देश्य है :
 (A) खाद्य फसलों की उत्पादकता को बढ़ाना
 (B) वन क्षेत्र को बढ़ाना

- (C) कृषि क्षेत्र को बढ़ाना
 (D) सिंचाई सुविधाओं को बढ़ाना
79. राज्य में शक्ति स्थल कहाँ प्रस्तावित है ?
 (A) रावतभाटा (B) सूरतगढ़ (C) बाड़मेर (D) पोकरण
80. भारत का सबसे बड़ा रेलवे मॉडल कक्ष स्थित है ?
 (A) जयपुर (B) उदयपुर (C) दिल्ली (D) कोलकाता
81. सुमेलित कीजिए :

खनिज	क्षेत्र
(a) जिप्सम	(1) झामर-कोटडा
(b) ताँबा	(2) रामपुरा - आगुचा
(c) रॉक फास्फेट	(3) खों - दरीबा
(d) सीसा एवं जस्ता	(4) जामसर

नीचे दिये कोड का प्रयोग करते हुए सही उत्तर चुनिये-

	(a)	(b)	(c)	(d)
(A)	4	3	1	2
(B)	3	2	4	1
(C)	2	3	4	1
(D)	1	4	2	3

82. राज्य को सर्वाधिक राजस्व किस कर से प्राप्त होता है ?
 (A) निगम कर (B) उत्पाद शुल्क
 (C) आवकारी शुल्क (D) बिक्री कर
83. राजस्थान का 2011 में लिंगानुपात था :
 (A) 928 (B) 922 (C) 923 (D) 921
84. राज्य में सोडियम सल्फेट कारखाना स्थित है-
 (A) फलौदी (B) सांभर (C) डीडवाना (D) कुचामन
85. राजस्थान के किस सम्भाग में सर्वाधिक नदियाँ हैं ?
 (A) भरतपुर (B) जयपुर (C) उदयपुर (D) कोटा
86. सुमेलित कीजिए-

झील	जिला
(a) मान सरोवर	1. बूंदी
(b) बीसलसर	2. झालावाड़
(c) पीथमपुरी	3. अजमेर
(d) दुगारी	4. सीकर

कूट :	(a)	(b)	(c)	(d)
(A)	1	2	3	4
(B)	2	1	4	3
(C)	2	3	4	1
(D)	3	2	1	4

87. 'राजस्थान का राजकोट' कहलाता है-
 (A) लूणकरणसर (B) कोलायत (C) जयपुर (D) नोखा
88. राजस्थान की सबसे बड़ी पेयजल परियोजना है-
 (A) इंदिरा गांधी नहर परियोजना (B) बीसलपुर परियोजना
 (C) व्यास परियोजना (D) भाखड़ा-नांगल परियोजना
89. आकल गाँव प्रसिद्ध है-
 (A) जीवाशम पार्क हेतु (B) पूर्णतया वनस्पति रहित क्षेत्र हेतु
 (C) बीहड़ प्रसार क्षेत्र (D) सेम प्रभावित होने के कारण

शिक्षण अभिभ्रमता

90. राजस्थान राज्य में 2001-2011 के दौरान लिंगानुपात में कितने अंकों की वृद्धि हुई है-
 (A) 5 (B) 10 (C) 7 (D) 15
91. राजस्थान के किस प्राकृतिक प्रदेश में मुकुन्दरा की पहाड़ियाँ स्थित हैं?
 (A) मध्य अरावली (B) शेखावाटी प्रदेश
 (C) उत्तरी-पूर्वी प्रदेश (D) हाडौती का पठार
92. राजस्थान में कम वर्षा होने का कारण है?
 (A) अरावली पर्वत शृंखला का मानसून के समानान्तर होना
 (B) अरावली पर्वत शृंखला का मानसून की दिशा से विपरीत एक खड़ी दीवार की तरह होना
 (C) अरावली पर्वत शृंखला में कटाव अधिक होना
 (D) अरावली पर्वत शृंखला का वनस्पति विहीन होना।
93. राजस्थान में सागवान रोपण हेतु सर्वाधिक उपयुक्त जिले हैं?
 (A) गंगानगर-बीकानेर-चूरू (B) बाँसवाड़ा-डूंगरपुर-उदयपुर
 (C) जयपुर-चूरू-बीकानेर (D) जोधपुर-जैसलमेर-बीकानेर
94. निम्नलिखित में से कौन सी एक राजस्थान में भेड की नस्ल नहीं है?
 (A) मालपुरा (B) नाली
 (C) मगरा (D) मालवी
95. नगरपालिकाओं एवं पंचायतों को संवैधानिक दर्जा प्रदान किया गया है अनुच्छेद:
 (A) 151 में (B) 16 में
 (C) 243 में (D) 324 में
96. नाथरा-की-पाल जिससे सम्बन्धित है, वह है -
 (A) लौह अयस्क (B) अभ्रक
 (C) ताँबा (D) कोयला
97. 'परनामी सम्प्रदाय' की स्थापना किसने की-
 (A) हरिदास जी (B) दरियाव जी
 (C) प्राणनाथ जी (D) दादूदयाल जी
98. 'मरुस्थल में मोर' क्या है?
 (A) जैसलमेर के मरुस्थल में पाया जाने वाला मोर
 (B) मोर के संरक्षण हेतु स्थापित संस्था
 (C) जर्मनी में भारत महोत्सव में राजस्थानी संस्कृति मण्डल का नाम
 (D) राजस्थान सरकार द्वारा हाल में स्थापित पुरस्कार
99. राजस्थानी लोकगीत व लोक साहित्य में किस जाति का महत्वपूर्ण योगदान है?
 (A) चारण (B) जाट
 (C) ब्राह्मण (D) राजपूत
100. सुमेलित कीजिए-
 (a) मेवाड़ शैली 1. खजूर के वृक्ष
 (b) जयपुर शैली 2. केले के वृक्ष
 (c) किरानगढ़ शैली 3. पीपल के वृक्ष
 (d) कोटा-बूंदी शैली 4. कदम्ब के वृक्ष
- कूट :
 (A) 2 1 4 3
 (B) 1 4 3 2
 (C) 4 3 2 1
 (D) 3 4 1 2
101. आप 'स्व-अनुशासन' का अर्थ लगाते हैं-
 (A) सामाजिक रूप से स्वीकृत व्यवहारों का अनुसरण करना।
 (B) सामाजिक मान्य व्यवहारों का दण्डात्मक दबाव से अनुसरण करना।
 (C) सामाजिक मान्य व्यवहारों को नैतिकता के फलस्वरूप अपनाना।
 (D) सामाजिक दायित्वों की मजबूत पूर्ति करना।
102. शिक्षक को राष्ट्र निर्माता कहा जाता है, क्योंकि-
 (A) वह राष्ट्र की भावी पीढ़ी का निर्माण करता है।
 (B) वह सकल राष्ट्रीय उत्पादन में अपेक्षित योगदान देता है।
 (C) वह राष्ट्र की अस्मिता का योगदान देता है।
 (D) वह राष्ट्र का सर्वोच्च परिश्रमी व्यक्ति माना जाता है।
103. 'गुरु को ऐसा चाहिए - सिस से कुछ न लेई, सिस को ऐसा चाहिए, गुरु को सब कुछ देई।' आप उक्त कथन से कहाँ तक सहमत हैं-
 (A) यह एक प्राचीन उक्ति है जो इस समय अनुपयुक्त है।
 (B) यह एक शाश्वत उक्ति है जो कालातीत है।
 (C) यह आज भी आंशिक रूप से सत्य है।
 (D) यह पूर्ण निराधार है।
104. यदि आपको किसी दूरस्थ स्थान पर नियुक्ति करके भेज दिया जाता है, तो आप क्या विचार करेंगे-
 (A) आप एक शिक्षक के रूप में ऐसे दूरस्थ स्थान पर कार्य करने को नहीं बने हैं।
 (B) आप पुरजोर कोशिश करेंगे कि कहीं निकटस्थ स्थान पर तबादला हो जाए।
 (C) आप मन मसोस कर चले तो जाएंगे किन्तु दायित्व का निर्वाहन नहीं करेंगे।
 (D) आप सम्पूर्ण प्रदेश में कहीं भी स्थानांतरण होने पर पूर्ण लगन से अपने दायित्व का निर्वाहन करेंगे।
105. निम्न में से सर्वाधिक सत्य कथन है-
 (A) शिक्षा एक सविचार प्रक्रिया है।
 (B) शिक्षा पढ़ाना-लिखना है।
 (C) शिक्षा व्यवसाय देने का साधन है।
 (D) शिक्षा परीक्षा में उत्तीर्ण होना है।
106. आप एक छात्र को व्यक्तिगत रूप से पढ़ाते हैं छात्र परीक्षा में अनुत्तीर्ण हो जाता है। इसके लिए आप क्या करेंगे-
 (A) पुनर्मूल्यांकन का आवेदन करेंगे।
 (B) प्रधानाचार्य से उसे पास कराने की सिफारिश करेंगे।
 (C) आप अपने साथी शिक्षकों पर उसे उत्तीर्ण करने को दबाव डालेंगे।
 (D) उपर्युक्त में से कुछ भी नहीं करेंगे।
107. प्रजातांत्रिक मूल्यों के उत्थान के लिए एक शिक्षक को किस प्रकार सामाजिक राजनीतिक कर्तव्यों का पालन करना चाहिए-
 (A) शिक्षक को प्रजातांत्रिक मूल्यों के अनुपालन को व्यक्तिगत राजनीतिक विश्वास से ऊपर रखना चाहिए।
 (B) शिक्षक को राजनीति दल का सहारा लेकर विद्यालय में धाक जमा लेनी चाहिए, क्योंकि प्रत्येक राजनीतिक पार्टी का अनुप्राण तो प्रजातंत्र ही है।
 (C) शिक्षक को राजनीतिक गतिविधियों में गुप्त ढंग से लिप्त रहना चाहिए तथा समय भौंपकर सदुपयोग करना चाहिए।
 (D) शिक्षक तो क्या किसी भी व्यक्ति का राजनीतिक विहीन स्वरूप अत्यधिक दुर्बल होता है यह सोचकर स्वयं को सजग प्रजातांत्रिक मूल्यों की पुष्टि करनी चाहिए।

108. आपका एक अध्यापक साथी निम्न जाति का है, उसके घर में विवाह है, आप-
- (A) कभी नहीं जाएंगे।
 (B) जाएंगे पर भोजन नहीं करेंगे।
 (C) जाएंगे तथा भोजन अवश्य करेंगे।
 (D) उपर्युक्त सभी विकल्प सत्य हैं।
109. आप सर्वप्रथम नियुक्ति के लिए समय निम्नलिखित में से कौनसा कार्य करने के लिए प्रेरित रहेंगे-
- (A) आप सम्पूर्ण प्रयासों से आदर्श शिक्षण के लिए कटिबद्ध रहेंगे तथा व्यवसाय में आनंदपूर्वक लित रहेंगे।
 (B) आप छात्रों का मात्र मनोरंजन करेंगे तथा उनमें अपने दोस्त ढूँढ़ेंगे।
 (C) आप छात्रों की समस्याओं को हल करके अपनी प्रतिष्ठा कायम करेंगे।
 (D) आप प्रशासनिक सीमा एवं भयग्रस्त रहकर अपना कार्य करना पसंद करेंगे।
110. छात्रों द्वारा टी.वी. देखने में सबसे अधिक हानि यह है कि-
- (A) वे टी.वी. देखने में बहुत अधिक समय बर्बाद कर लेते हैं।
 (B) अपराध दृश्य देखकर उनमें अनुशासनहीनता उत्पन्न होने लगती है।
 (C) उनमें बुरी आदतों का संचार होने लगता है।
 (D) वे अपना कर्तव्य भूल जाते हैं।
111. छात्रों में भिन्न-भिन्न कौशल का विकास करने हेतु निम्नलिखित में से क्या करना चाहिए-
- (A) छात्रों को कौशल के महत्व पर भाषण देंगे।
 (B) जिन व्यक्तियों में कौशल विकसित हो, उनके उदाहरण प्रस्तुत करेंगे।
 (C) जिस कौशल का विकास करना हो, उसको छात्रों द्वारा स्वयं करने को कहेंगे।
 (D) उपर्युक्त सभी कौशल के विकास में सहायक नहीं होते हैं।
112. कक्षा में शोर मचाने वाले छात्र के साथ आप कैसा व्यवहार करेंगे-
- (A) उसे कक्षा से बाहर निकाल देंगे।
 (B) उसे शारीरिक दण्ड देंगे।
 (C) अभिभावक से शिकायत करेंगे।
 (D) उसे सक्रिय रखने का प्रयास करेंगे।
113. बच्चों की प्रतिभा के विकास के लिए आप निम्नलिखित कार्यक्रमों में से किसको प्राथमिकता देंगे-
- (A) सामुदायिक विकास के कार्यक्रमों के क्रियान्वयन को।
 (B) खेलकूद प्रतियोगिता के आयोजन को।
 (C) शिक्षा एवं कार्यानुभव को जोड़ने वाले कार्यक्रमों को।
 (D) उपर्युक्त में से कोई नहीं।
114. एक शिक्षक की रुचि निम्न में से किसमें अधिक होगी-
- (A) अच्छी-अच्छी पुस्तकों के संकलन एवं अध्ययन में
 (B) समाज कल्याण के कार्यों में
 (C) बच्चों की सेवा करने में
 (D) छात्रों के अभिभावकों से सम्पर्क करने में।
115. पुस्तकालय की पुस्तक फट जाने पर छात्र को-
- (A) आर्थिक दण्ड देंगे।
 (B) नई पुस्तक लाने को कहेंगे।
 (C) पुस्तकालय में पढ़ने की अनुमति नहीं देंगे।
 (D) पुस्तक की मरम्मत करने को कहेंगे।
116. विद्यालय में छात्रों की संख्या बढ़ जाने का परिणाम होता है-
- (A) अव्यवस्था (B) अधिक आय
 (C) सम्मान वृद्धि (D) वेतनमान
117. अनुशासन के लिए आप किस उपाय को कारगर मानते हैं-
- (A) छात्रों को समय-समय पर पुरस्कार देना।
 (B) उन्हें महात्माओं के उपदेश सुनाना।
 (C) अनुशासित छात्रों को कठोर दण्ड देना।
 (D) छात्रों को रचनात्मक कार्यों में व्यस्त रखना।
118. यदि कोई छात्र कक्षा में आपसे प्रश्न करता है, तो आप क्या करेंगे-
- (A) उसके प्रश्नों का उत्तर देंगे और उसे प्रश्न पूछने के लिए प्रेरित करेंगे।
 (B) उसे डाँटकर बैठने का आदेश देंगे।
 (C) छात्रों के सामने उसकी खिखी उड़ाएंगे।
 (D) उसे कक्षा से बाहर कर देंगे।
119. राष्ट्रीय शिक्षा नीति में किस चीज पर जोर दिया जाता है-
- (A) परीक्षा तथा मूल्यांकन पर (B) अनुसंधान पर
 (C) जनसाधारण की शिक्षा पर (D) व्यावसायीकरण पर
120. छात्रों को शिक्षक से आज्ञा लेकर कक्षा से बाहर जाना चाहिए, क्योंकि-
- (A) इससे अनुशासन रहता है।
 (B) इससे शिक्षक का सम्मान बढ़ता है।
 (C) इससे छात्रों में भय बना रहता है।
 (D) इससे छात्रों का विकास होता है।
121. छात्रों की प्रगति का ब्यौरा अभिभावकों को इसलिए देना आवश्यक है, क्योंकि-
- (A) इससे अभिभावक अपने बच्चों की प्रगति जान सकते हैं।
 (B) इससे अभिभावक को दृष्टान के लिए उचित सलाह मिलती है।
 (C) इससे बच्चों में डर बना रहता है।
 (D) इससे माँ-बाप पर बच्चों की पोल खुल जाती है।
122. कम्प्यूटर शिक्षा है-
- (A) अत्यधिक उपयोगी (B) अत्यधिक बनावटी
 (C) अत्यधिक कठिन (D) उपर्युक्त में से कोई नहीं
123. आपकी कक्षा में कुछ मंदबुद्धि छात्र हैं, आप उनके साथ कैसा व्यवहार करेंगे-
- (A) उन पर कोई ध्यान नहीं देंगे।
 (B) उन छात्रों की विशेष सहायता करेंगे।
 (C) उनका सार्वजनिक रूप से अपमान।
 (D) उपर्युक्त में से कोई नहीं।
124. अपनी कक्षा का परीक्षाफल श्रेष्ठ रखने के लिए आप क्या करेंगे-
- (A) छात्रों को परीक्षा में अनुचित साधन प्रयोग करने देंगे।
 (B) छात्रों को दृष्टान पढ़ने को प्रेरित करेंगे।
 (C) छात्रों को गैस पेपर पढ़ने को कहेंगे।
 (D) छात्रों की अतिरिक्त कक्षा लगाकर और अधिक परिश्रम करेंगे।
125. प्रतिभाशाली छात्रों के लिए पाठ्यक्रम होना चाहिए-
- (A) सरल (B) कठिन
 (C) चुनौतीपूर्ण (D) वैज्ञानिक
126. विद्यालय के आस-पास की आबादी में बाढ़ आने पर आप क्या करेंगे-
- (A) विद्यालय बंद कर देंगे।
 (B) छात्रों को सावधान रहने के लिए कहेंगे।
 (C) छात्रों की सहायता से एक सेवादल का गठन करेंगे।
 (D) कुछ नहीं करेंगे।

127. आप अनुशासित छात्र किसे कहेंगे-
- (A) जो कक्षा में शिक्षक को पढ़ाते समय शांतिपूर्वक बैठा रहता है।
 (B) जो दूसरे छात्रों से झगड़ा नहीं करता है।
 (C) जो दिए गए कार्य को अधिक लगन एवं तत्परता से पूर्ण करता है।
 (D) जो किसी भी कक्षा में कभी अनुपस्थित नहीं रहता हो।
128. बच्चे आपकी कक्षा में अनुशासित रहें, इसके लिए आप क्या करेंगे-
- (A) अननुशासित बच्चों को दण्ड देंगे।
 (B) शरारती बच्चों को आगे बिठाएंगे।
 (C) शिक्षा को रुचिकर एवं व्यावहारिक बनाने का प्रयास करेंगे।
 (D) छात्रों से समय-समय पर प्रश्न करते रहेंगे।
129. सहगामी क्रियाओं में भाग लेना आवश्यक है, केवल-
- (A) शारीरिक एवं मानसिक विकास के लिए।
 (B) बहुमुखी विकास के लिए।
 (C) शारीरिक तथा नैतिक विकास के लिए।
 (D) मानसिक तथा नैतिक विकास के लिए।
130. कक्षा के पहले दिन आप एक अध्यापक के रूप में-
- (A) पाठ्यक्रम की विवेचना करेंगे।
 (B) प्रत्येक व्यक्ति को मुस्कराहट के साथ देखेंगे।
 (C) स्वयं का परिचय देंगे तथा विद्यार्थियों का परिचय प्राप्त करेंगे।
 (D) कक्षा में प्रभावकारी होने का प्रयास करेंगे।
131. आप खेल इंचार्ज हैं तथा प्रतियोगिता में आपकी टीम हार रही है, तो आप क्या करेंगे-
- (A) खिलाड़ियों पर कुपित होंगे।
 (B) टीम के कप्तान से भला-बुरा कहेंगे।
 (C) खिलाड़ियों का उत्साहवर्द्धन करेंगे।
 (D) उपर्युक्त सभी।
132. शिक्षकों को अपने कार्य में निपुण होने के लिए-
- (A) अपने विषय संबंधी नवीन पुस्तकों का अध्ययन करना चाहिए।
 (B) छात्रों से मित्रता करनी चाहिए।
 (C) छात्रों को नोट्स लिखाना चाहिए।
 (D) उपर्युक्त में से कोई नहीं।
133. सफल शिक्षक वह कहलाता है, जो छात्र की-
- (A) अंतर्निहित संभावनाओं का विकास करता है।
 (B) इच्छानुसार कक्षा में पढ़ाता है।
 (C) कमजोरियों पर ध्यान नहीं देता है।
 (D) कमजोरियों पर ध्यान देता है।
134. कक्षा में अध्यापन कार्य करते समय एक छात्र आपसे पाठ्यक्रम से बाहर का प्रश्न पूछता है, तो आप-
- (A) इस प्रकार के प्रश्न न पूछने को कहेंगे।
 (B) प्रश्न स्वीकार करेंगे तथा कक्षा के बाद उसकी जिज्ञासा को शांत करेंगे।
 (C) उसे दण्ड देंगे।
 (D) छात्र को डाँटकर कक्षा से बाहर निकाल देंगे।
135. आज के शिक्षक के सम्मान में कमी आ रही है, क्योंकि-
- (A) आज का शिक्षक राजनीतिज्ञ बनने की सोचता है।
 (B) आज का शिक्षक आचरणहीन होता जा रहा है।
 (C) आज का शिक्षक भेदभाव से पढ़ा रहा है।
 (D) आज के शिक्षक में ज्ञान की कमी आ रही है।
136. विद्यार्थियों में सहयोग की भावना का विकास किस प्रकार किया जा सकता है-
- (A) रचनात्मक कार्य करके।
 (B) ऐसा काम देकर जिसमें सभी मिलकर काम करें।
 (C) सहयोग का महत्व बतलाकर।
 (D) सहयोग का चित्र दिखलाकर।
137. विद्यालय में समय चक्र का होना आवश्यक है, क्योंकि-
- (A) छात्रों एवं शिक्षकों को अपने दायित्व का ज्ञान होता है।
 (B) शिक्षण कार्य व्यवस्थित होता है।
 (C) प्रधानाचार्य को निरीक्षण एवं नियंत्रण में सुविधा रहती है।
 (D) उपर्युक्त सभी।
138. पिछड़े विद्यार्थियों के उपचार हेतु आप-
- (A) उन्हें दण्ड देंगे।
 (B) उनकी आधारभूत त्रुटियों को ठीक करेंगे।
 (C) परीक्षा में फेल कर देंगे।
 (D) नीचे की कक्षा में भेज देंगे।
139. अध्यापक की अनुपस्थिति में कक्षा में शोर हो गया था। आपके पहुँचते ही छात्र शांत हो जाते हैं, आप कक्षा में पहले क्या करेंगे-
- (A) छात्रों को कक्षा में शांत बैठने का भाषण देंगे।
 (B) कक्षा कार्य विधिवत् आरंभ कर देंगे।
 (C) कक्षा में पूछताछ करेंगे कि कौन-कौन शोर मचा रहे थे।
 (D) नाराज होकर कुर्सी पर बैठ जाएंगे।
140. यदि आपकी कक्षा में कोई विकलांग बालक है तब शिक्षक की हैसियत से आप-
- (A) उसे अपनी पूर्ण सहानुभूति देंगे।
 (B) उस पर विशेष ध्यान नहीं देंगे।
 (C) विद्यार्थियों को उसके साथ सामान्य व्यवहार करने को कहेंगे।
 (D) उसको बेचारा कहेंगे।
141. यदि आप चाहते हैं कि विद्यालय में सभी क्रियाकलाप सुव्यवस्थित ढंग से संचालित होते रहें, इसके लिए शिक्षक नेता को निम्नलिखित उपाय करने होंगे-
- (A) सभी शिक्षकों को अपेक्षित सहयोग दें।
 (B) सभी क्रियाकलापों में अपने पूर्वाग्रह को भुला दें।
 (C) सभी शिक्षकों की समस्याओं पर सहानुभूतिपूर्वक विचार करें तथा समाधान प्रस्तुत करें।
 (D) सभी कार्य 'शिक्षक समिति' के माध्यम से पूर्ण करने में सहयोग दें।
142. शिक्षकों का कौनसा व्यवहार पलायनवादी प्रवृत्ति को बढ़ावा देता है-
- (A) शिक्षकों का अति कठोर व्यवहार।
 (B) शिक्षकों द्वारा अपने छात्रों का तिरस्कार।
 (C) शिक्षकों-छात्रों में विद्वेष।
 (D) उपर्युक्त सभी।
143. छात्रों में 'सामाजिक परिपक्वता' की आधारभूत कसौटी है-
- (A) समाज की मान्यताओं के अनुरूप व्यवहार प्रदर्शन में।
 (B) सामाजिक कृत ग्राह्य व्यवहारों के प्रदर्शन में।
 (C) सामाजिक नियंत्रण में।
 (D) सामाजिक पूर्वाग्रहों के अनुरूप व्यवहार प्रदर्शन में।
144. हाई स्कूल स्तर पर 'यौन पाठ्यक्रम' लागू करने के लिए आप निम्नलिखित में से कौनसी कक्षा व्यवस्था की संस्तुति करेंगे-
- (A) आप उक्त यौन पाठ्यक्रमों के लिए संतुलित सह-शिक्षा की व्यवस्था करेंगे।
 (B) आप यौन पाठ्यक्रम को केवल जीव विज्ञान की कक्षाओं में लागू करेंगे।
 (C) आप बालक-बालिकाओं के लिए उक्त पाठ्यक्रम के संदर्भ में पृथक-पृथक कक्षाओं तथा शिक्षक-शिक्षिकाओं की व्यवस्था करेंगे।
 (D) आप बालक-बालिकाओं में स्वस्थ यौन चिंतन के लिए विविध विषयों का अपेक्षित सहयोग लेंगे।

145. शिक्षण कार्य में सबसे अधिक किससे सहयोग की आवश्यकता होती है—
 (A) छात्र की (B) अभिभावक की
 (C) समाज की (D) सरकार की
146. जब आपको किसी समाचार पत्र/पत्रिका में यह पढ़ने में आता है कि कोई अध्यापक/अध्यापिका किसी अनैतिक कार्य में लिप्त रहते हुए पकड़ा गया है, तो आपको कैसा अनुभव होता है—
 (A) आप उक्त अनुभव के प्रति असंवेदनशील बने रहते हैं, क्योंकि सभी उँगलियाँ एक समान नहीं होती हैं।
 (B) आप उक्त समाचार पढ़ते हैं तथा अपने शिक्षक साथियों को पढ़ा-पढ़ाकर मीठे चटखारे लेते हैं।
 (C) आप गंभीर शर्मिंदगी का अनुभव करते हैं।
 (D) आप स्वयं सतर्क रहेंगे तथा दूसरों की निगरानी भी करेंगे।
147. यदि आप प्रार्थना स्थल पर खड़े हैं तथा आपके कुछ सहयोगी अशोभनीय व्यवहार में रत हैं। ऐसी स्थिति में आप क्या करेंगे—
 (A) आप उक्त शिक्षक को सौहार्द्रपूर्ण ढंग से समझाएंगे।
 (B) आप उक्त शिक्षक के साथ स्वयं अशिष्ट व्यवहार करेंगे।
 (C) आप उक्त शिक्षक को पद की गरिमा का उलाहना देंगे।
 (D) आप सोचेंगे कि स्वयं प्राचार्य निरीक्षण करें, आप क्यों चिंता करेंगे।
148. यदि शिक्षकों को अपने व्यवसाय के प्रति जवाबदेह बना दिया जाए, तो इससे लाभ होगा—
 (A) शिक्षकों की कार्यनिष्ठा में बढ़ोत्तरी
 (B) शिक्षकों में कार्य उदासीनता
 (C) शिक्षकों में प्रशंसनीय कार्य करने की प्रतिस्पर्धा
 (D) शिक्षकों में मानसिक असंतुष्टि
149. व्यावसायिक प्रतिबद्धता का जन्म होता है—
 (A) प्रशिक्षण द्वारा (B) अनुत्तीक्षण द्वारा।
 (C) संवेदनशीलता से (D) कर्तव्यमुक्ति से।
150. यदि राष्ट्र को उत्तम शिक्षकों की अनवरत आपूर्ति बनाए रखनी है तो हमें निम्नलिखित कार्य करना होगा—
 (A) शिक्षकों के उत्तम प्रशिक्षण की व्यवस्था।
 (B) शिक्षकों के लिए उत्तम पाठ्यक्रम की व्यवस्था
 (C) शिक्षकों को देश-प्रेम के आदर्श अनुकरण की व्यवस्था।
 (D) शिक्षकों के लिए कठोर प्रवेश परीक्षा।

General English

Directions — (Q. 151–155) Find out the error, if there is any in each of the following sentences. If there is none, mark your answer as 'D'.

151. She closely resembles (A)/ to his mother in facial (B)/ features as well as in complexion (C)/ No error. (D)
152. Prices of all commodities (A)/ has gone up (B)/ following the current hike (C)/ No error. (D)
153. Before examination he is (A)/ totally confused and behaves (B)/ like a cat over hot bricks (C) / No error. (D)
154. He has brought (A)/ many bananas and (B)/milk from market (C)/ No error. (D)
155. He takes exercise (A)/ lest he should (B)/ not fall ill (C)/No error. (D)

Directions — (Q. 156–160) Rearrange the following five sentences in proper sequence so as to form a meaningful paragraph. Then answer the questions given below—

- (a) The Indian farmer is a simple contented man.
 (b) He sows the seed and waits for a good crop.
 (c) He sells some of the corn and stores the remaining carefully.
 (d) Then he reaps the harvest, winnows and thrashes it.
 (e) He ploughs his land and prepares the field.
156. Which of the above sentences would come FIRST in the paragraph?
 (A) b (B) e (C) a (D) c
157. Which of the above sentences would come SECOND in the paragraph?
 (A) e (B) d (C) a (D) c
158. Which of the above sentences would come THIRD in the paragraph?
 (A) d (B) c (C) a (D) b
159. Which of the above sentences would come FOURTH in the paragraph?
 (A) a (B) c (C) b (D) d
160. Which of the above sentences would come FIFTH in the paragraph?
 (A) b (B) d (C) e (D) c

Directions — (Q. 161–165) Fill in the blanks with one of the most suitable options.

161. These days I am absorbed my study.
 (A) to (B) in (C) into (D) for
162. Due to his carelessness he has been sacked his present job.
 (A) from (B) of (C) to (D) over
163. Itinerary means detailed plan a journey.
 (A) with (B) by (C) of (D) in
164. money I had was spent.
 (A) The little (B) The few (C) A little (D) A few
165. The result of R.R.B has come.....
 (A) of (B) out
 (C) about (D) on

Directions— (Q. 166–170) Which of the following is most nearly OPPOSITE / SYNONYM in meaning as indicated.

166. EGREGIOUS (O)
 (A) Extraordinary (B) Eminent
 (C) Vague (D) Distress
167. GERMANE (O)
 (A) Relevant (B) Pious
 (C) Irrelevant (D) Humanity
168. ABET (O)
 (A) Hinder (B) Forward
 (C) Encourage (D) Superb
169. LAMENT (S)
 (A) Brutal (B) Rude
 (C) Regret (D) Fraud
170. EVADE (S)
 (A) Combat (B) Fast moving
 (C) Perturb (D) Escape

भाषा योग्यता : सामान्य हिंदी

निर्देश (171-174)- नीचे प्रत्येक वर्ग में दिए गए विकल्पों में तत्सम शब्द का चयन कीजिए-

171. (A) गरम (B) कुत्ता (C) उद्भव (D) बाँका
 172. (A) परिच्छा (B) परीच्छा (C) परीछा (D) परीक्षा
 173. (A) हिय (B) हृदय (C) जिया (D) मन
 174. (A) महीना (B) मास (C) माह (D) इनमें से कोई नहीं

निर्देश (175-177)- नीचे प्रत्येक वर्ग में दिए गए विकल्पों में से तद्भव शब्द का चयन कीजिए-

175. (A) विवाह (B) मुद्रा (C) निद्रा (D) शौक
 176. (A) वचन (B) हँसी (C) विधवा (D) शौर्य
 177. (A) श्रम (B) शहीद (C) सभा (D) चेष्टा

निर्देश (178-181)- निम्नलिखित वाक्यों में रिक्त स्थान की पूर्ति के लिए उपयुक्त विकल्प का चयन कीजिये-

178. सम्बन्धी को पत्र लिखकर वह---करता है।
 (A) प्रतीक्षा (B) इंतजार
 (C) प्रत्याशा (D) आशा
 179. अमेरिका की राष्ट्रपति प्रणाली हमारे देश की---प्रणाली से अच्छी मानी जा रही है।
 (A) प्रजातांत्रिक (B) राजनैतिक (C) संसदीय (D) जनतांत्रिक
 180. प्रगति की राह पर चलने के लिए हमें इन योजनाओं को----बनाना ही पड़ेगा।
 (A) अंकित (B) तेज (C) कुशल (D) सफल
 181. अब तक हम नौ पंचवर्षीय योजनाएँ----कर चुके हैं।
 (A) कार्यान्वित (B) सिद्ध (C) सार्थक (D) सम्पन्न

निर्देश (182-186)- निम्नलिखित प्रश्नों में सही सन्धि-विच्छेद का चयन कीजिये-

182. उच्छ्वास
 (A) उच्च + श्वास (B) उत् + श्वास
 (C) उतः + श्वास (D) उच् + श्वास
 183. जगन्नाथ
 (A) जगन + अनाथ (B) जगन् + नाथ
 (C) जगत् + नाथ (D) जग + अन्नाथ
 184. अत्यावश्यक
 (A) अत्या + आवश्यक (B) अति + आवश्यक
 (C) अत्य + आवश्यक (D) अती + आवश्यक
 185. मनोयोग
 (A) मनोः + योग (B) मनः + योग
 (C) मनः + आयोग (D) इनमें से कोई नहीं
 186. वसुधैव
 (A) वसुधा + एव (B) वसुधा + इव
 (C) वसुधाः + ईव (D) वसुधा + ईव
 187. 'आटे दाल का भाव मालूम होना' का अर्थ है-
 (A) कमाई का पता चलना (B) रहस्य मालूम होना
 (C) असलियत का पता लगना (D) महँगाई बढ़ना

188. 'कंगाली में आटा गीला' का अर्थ है-
 (A) मुसीबतों का कोई अन्त नहीं होता।
 (B) मुसीबत में और अधिक मुसीबतों का आ पड़ना।
 (C) गरीबी के कारण भूखे रहना।
 (D) गरीबी में बीमार पड़ जाना।

189. 'खटाई में पड़ना' का अर्थ है-
 (A) पछतावा होना (B) झमेले में पड़ना।
 (C) बहुत कष्ट होना (D) नुकसान होना।

190. 'छछूंदर के सिर में चमेली का तेल' का अर्थ है-
 (A) छछूंदर के सिर में चमेली का तेल शोभा देता है।
 (B) अयोग्य व्यक्ति के पास अच्छी वस्तु का होना एक विडम्बना है।
 (C) अच्छी वस्तु अयोग्य व्यक्ति के पास नहीं रहती।
 (D) जो व्यक्ति जिसके योग्य नहीं उसको वह नहीं देना चाहिये।

191. 'दांत खट्टे कर देना' का अर्थ है-
 (A) पराजित करना (B) मुंह का स्वाद लगाना
 (C) दांतों का बेकार होना (D) खट्टी चीजें खाना

निर्देश (192-196)- निम्नलिखित प्रत्येक वाक्य खण्ड के लिए उसके

नीचे दिए गए विकल्पों में से शब्द चुनिए-

192. जो ईश्वर में विश्वास करता हो-
 (A) आस्तिक (B) भक्त (C) ज्ञानी (D) धार्मिक
 193. जो जीवन को आघात पहुँचाने वाला हो-
 (A) संहारक (B) सांघातिक (C) माहसिक (D) सांप्रतिक
 194. जिसके पार देखा जा सके-
 (A) पारदर्शी (B) प्रतिबिम्ब (C) पारदर्शक (D) अपारदर्शक
 195. सूर्योदय से पूर्व का समय-
 (A) गोधूलि (B) उद्गनक्षय (C) उषाकाल (D) प्रभात
 196. जो बिना वेतन के काम करता हो-
 (A) वेतनिक (B) अवैतनिक (C) सेवक (D) स्वयंसेवी
 197. 'प्रधान' का विलोम है-
 (A) गौण (B) लघु (C) क्षीण (D) तुच्छ
 198. 'अथ' का विलोम है-
 (A) अति (B) अनर्थ (C) इति (D) व्यर्थ
 199. 'आविर्भाव' का विलोम है-
 (A) आनन्द (B) निर्भाव (C) अन्तरभाव (D) तिरोभाव
 200. 'आर्द्र' का विलोम है-
 (A) अनुकूल (B) अनुराग (C) शुष्क (D) आशा

भाषा योग्यता : संस्कृत

171. निम्नलिखितेषु पररूपस्य संघे उदाहरणं किम्?
 (A) हरेऽव (B) उपेहि (C) भवति (D) मध्वरि
 172. 'जशत्व' सन्ध्ये विधायक सूत्रम् किमस्ति?
 (A) झलां जशोऽन्ते (B) खरि च
 (C) स्तोः श्चुना श्चुः (D) मोऽनुस्वारः
 173. 'नमोनमः' शब्दस्य विच्छेदं किम्?
 (A) नमः + नमः (B) नमो + नमः (C) नम + नमः (D) नम् + नमः
 174. 'कण्ठोष्ठः' कस्य वर्णस्य उच्चारण स्थानमस्ति ?
 (A) ए, ऐ (B) ओ, औ (C) उ, ऊ (D) क, ख
 175. 'कण्ठः' केषाम् वर्णस्य उच्चारण स्थानं ?
 (A) क वर्ण (B) च वर्ण (C) त वर्ण (D) प वर्ण

176. 'प' वर्गस्य उच्चारण स्थानं किम् ?
 (A) कण्ठ (B) तालु
 (C) मूर्धा (D) ओष्ठ
177. 'अप' उपसर्गस्य कस्मिन् अर्थे प्रयोगं भवति ?
 (A) विपरीत (B) बुरा
 (C) A और B दोनों (D) सामने
178. 'उल्लेख' शब्देषु कः उपसर्गः ?
 (A) उद् (B) उत् (C) उप (D) निस्
179. 'ठक' प्रत्ययस्य उदाहरणम् किम् ?
 (A) ऐतिहासिक (B) सामाजिक (C) धार्मिक (D) एते सर्वे
180. 'कृ + तव्यत्' किम् रूपं स्यात् ?
 (A) करतव्य (B) कर्तव्य (C) करणीयः (D) कर्तुम्
181. 'श्रु + अनीयर' किम् रूपं स्यात् ?
 (A) श्रुनीयः (B) श्रवनीयः (C) श्रवणीयः (D) श्रवणम्
182. 'जेता' शब्दे प्रत्ययः कः ?
 (A) क्यप् (B) तृच् (C) यत् (D) घञ्
183. 'स्वाहा' के योग में विभक्ति होती है ?
 (A) चतुर्थी (B) पञ्चमी (C) षष्ठी (D) सप्तमी
184. जिससे कोई वस्तु अलग होती है, उसे कहते हैं ?
 (A) सम्प्रदान (B) अपादान (C) अधिकरण (D) करण
185. 'बालकाय मोदकः रोचते' रेखांकित पदे विभक्ति कः ?
 (A) द्वितीया (B) तृतीया (C) चतुर्थी (D) पञ्चमी
186. 'अन्यर्थे' समास भवति ?
 (A) अलुक समासः (B) तत्पुरुष समासः
 (C) कर्मधारय समासः (D) बहुब्रीहि समासः
187. 'उभयपद प्रधान' समासः भवति ?
 (A) द्वन्द्व (B) द्विगु (C) अव्ययीभाव (D) तत्पुरुष
188. 'समानाधिकरण तत्पुरुष' किस समास को कहा जाता है ?
 (A) द्विगु (B) कर्मधारय (C) द्वन्द्व (D) प्रादि समासः
189. 'उपमान' पूर्वपद कर्मधारय समासस्य उदाहरणं अस्ति ?
 (A) चन्द्रमुखम् (B) मुखकमलम् (C) विद्याघनम् (D) पीताम्बरं
190. 'भूभृति' कस्य विभक्त्याः रूपं अस्ति ?
 (A) पञ्चमी (B) षष्ठी (C) सप्तमी (D) तृतीया
191. 'गुरु' शब्दस्य षष्ठी द्विवचन किम् रूपम् -
 (A) गुरोः (B) गुरोः (C) गुरुणाम् (D) गुरवे
192. 'पितृ' शब्दस्य द्वितीया विभक्ति बहुवचनं रूपं अस्ति ?
 (A) पितरः (B) पितरम् (C) पितरौ (D) पितृन्
193. 'अस' धातु लृट् लकार प्रथम पुरुष एकवचनं रूपमस्ति ?
 (A) अस्ति (B) आसीत् (C) स्मात् (D) भविष्यति
194. 'दा' धातु लोट लकार मध्यम पुरुष एकवचनं रूपमस्ति ?
 (A) ददा (B) दद (C) देहि (D) ददातु
195. 'क्रीड' धातु लट् लकार मध्यम पुरुष बहुवचनं रूपमस्ति ?
 (A) क्रीडत (B) क्रीडथ (C) क्रीडथः (D) क्रीडाव
196. 'त्वं अहं किमर्थं कृष्यति' रेखांकिते शुद्ध रूपं स्यात् ?
 (A) आवाम् (B) माम् (C) मद्वां (D) अस्मान्
197. शुद्ध वाक्यम् अस्ति ?
 (A) पक्वानि फलानि पतन्ति (B) वृक्षे चत्वारि खगाः सन्ति
 (C) घनात् ज्ञानं गुरुतरः (D) एकदा एका वृद्धा अपतत्
198. अशुद्ध वाक्यं अस्ति ?
 (A) भवान् कुत्र वसति (B) ते परधनं च चोरयन्ति
 (C) त्वया किं क्रियते (D) भवान् कुत्र गच्छसि
199. 'दृष्टिः' शब्दस्य लिंगं कः ?
 (A) पुल्लिङ्ग (B) स्त्रीलिङ्ग (C) नपुंसकलिङ्ग (D) कोऽपि न
200. निम्नलिखितेषु केषाम् शब्देषु वर्गः नपुंसकलिङ्गः ?
 (A) माधुर्यम्, सख्यम्, चर्मन्, सर्पस्, लिंग
 (B) वृन्दम्, अरण्यम्, ब्रह्मन्, कोटिः, विपथम्
 (C) विधिः, निधिः, अग्निः, बलिः, ज्ञाति
 (D) मतिः, गतिः, दीघिति, विंशति, कोटिः

उत्तरमाला

1. (C)	2. (B)	3. (C)	4. (A)	5. (B)	6. (B)	7. (B)	8. (A)	9. (B)	10. (C)
11. (A)	12. (A)	13. (B)	14. (B)	15. (C)	16. (C)	17. (A)	18. (A)	19. (B)	20. (A)
21. (D)	22. (D)	23. (B)	24. (A)	25. (B)	26. (B)	27. (D)	28. (C)	29. (D)	30. (D)
31. (C)	32. (A)	33. (A)	34. (C)	35. (B)	36. (B)	37. (A)	38. (C)	39. (B)	40. (B)
41. (C)	42. (B)	43. (B)	44. (D)	45. (B)	46. (D)	47. (A)	48. (D)	49. (C)	50. (B)
51. (A)	52. (D)	53. (B)	54. (D)	55. (C)	56. (D)	57. (A)	58. (B)	59. (A)	60. (B)
61. (A)	62. (D)	63. (C)	64. (C)	65. (D)	66. (C)	67. (D)	68. (D)	69. (C)	70. (A)
71. (B)	72. (C)	73. (D)	74. (C)	75. (A)	76. (C)	77. (B)	78. (B)	79. (D)	80. (B)
81. (A)	82. (D)	83. (A)	84. (C)	85. (D)	86. (C)	87. (A)	88. (B)	89. (A)	90. (C)
91. (D)	92. (A)	93. (B)	94. (D)	95. (C)	96. (A)	97. (C)	98. (C)	99. (A)	100. (C)
101. (A)	102. (A)	103. (B)	104. (D)	105. (A)	106. (A)	107. (A)	108. (C)	109. (A)	110. (C)
111. (C)	112. (D)	113. (C)	114. (A)	115. (D)	116. (A)	117. (D)	118. (A)	119. (D)	120. (A)
121. (A)	122. (A)	123. (B)	124. (D)	125. (C)	126. (C)	127. (C)	128. (C)	129. (B)	130. (C)
131. (C)	132. (A)	133. (A)	134. (B)	135. (D)	136. (B)	137. (D)	138. (B)	139. (B)	140. (A)
141. (A)	142. (B)	143. (A)	144. (D)	145. (A)	146. (D)	147. (A)	148. (A)	149. (A)	150. (A)
151. (B)	152. (B)	153. (C)	154. (C)	155. (C)	156. (C)	157. (A)	158. (D)	159. (D)	160. (D)
161. (B)	162. (A)	163. (C)	164. (A)	165. (B)	166. (C)	167. (C)	168. (A)	169. (C)	170. (D)

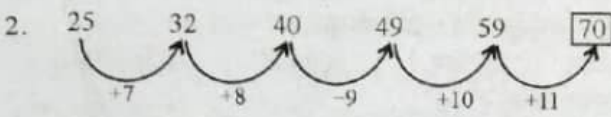
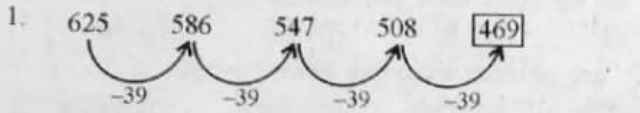
भाषा योग्यता : हिंदी

171. (C)	172. (D)	173. (B)	174. (B)	175. (D)	176. (B)	177. (B)	178. (A)	179. (C)	180. (D)
181. (A)	182. (B)	183. (C)	184. (B)	185. (B)	186. (A)	187. (C)	188. (B)	189. (B)	190. (B)
191. (A)	192. (A)	193. (B)	194. (B)	195. (C)	196. (B)	197. (A)	198. (C)	199. (D)	200. (C)

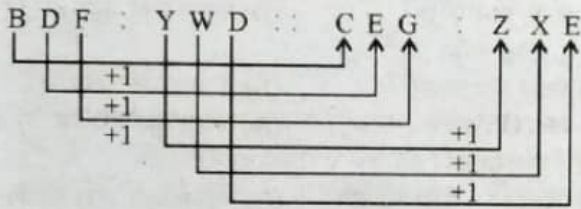
भाषा योग्यता : संस्कृत

171. (B)	172. (A)	173. (A)	174. (B)	175. (A)	176. (D)	177. (C)	178. (B)	179. (D)	180. (B)
181. (C)	182. (B)	183. (A)	184. (B)	185. (C)	186. (D)	187. (A)	188. (B)	189. (A)	190. (C)
191. (A)	192. (D)	193. (D)	194. (C)	195. (B)	196. (C)	197. (A)	198. (D)	199. (B)	200. (A)

स्पष्टीकरण/व्याख्या/हल/संकेत

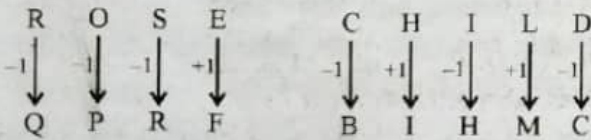


3. इसे इस प्रकार समझाया जा सकता है।

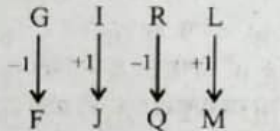


4. इसे निम्न प्रकार समझाया जा सकता है-

इसी प्रकार,

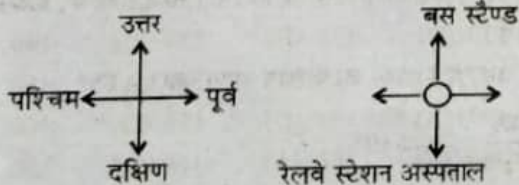


उसी प्रकार,



5. चूंकि कल बृहस्पतिवार होगा तो आज बुधवार है। बुधवार से परसों (पीछे) सोमवार होता है। सोमवार से तीन दिन पीछे शुक्रवार होता है।
6. पूरी आकृति 180° से घड़ी की सुई की दिशा में घूम जाती है एवं तीर दूसरे सिरे पर चला जाता है।
7. दोनों की तत्व (जोड़ एवं घटाव के चिह्न) 90° से घूम रही है जिसके घूमने की दिशा घड़ी की सुई की दिशा के विपरीत है एवं बाहर की आकृति स्थिर रहती है।
8. एक दूसरे का विलोम है।
9. जिस प्रकार ताली से ताला का संचालन किया जाता है उसी प्रकार स्विच से पंखे का संचालन किया जाता है।

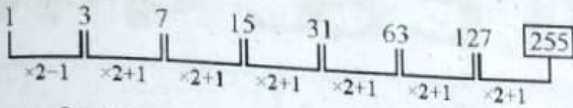
10.



11. शनिवार +7 दिन +7 दिन +7 दिन +6 दिन (शुक्रवार)
12. $13000 + 1300 + 13 = 14313$
13. इसे निम्न प्रकार समझा जा सकता है-
ए > बी > डी > सी > ए > डी > बी
तीनों अवस्थाओं को मिलाने पर
ए > डी > बी और सी
14. बाकी तीनों विकल्पों में दोनों संख्याओं का अंतर 7 है जबकि इसमें अंतर 8 है।
15. बाकी तीनों विकल्पों के दोनों अंकों के अंतर का वर्गमूल निकाला जाता है।
16. जिम प्रकार अनन्नास और शरीफा दोनों में छिलके ऊपर उभरे हुए दाने होते हैं उसी प्रकार खरबूजा और तरबूज की एक ही प्रजाति है।
17. जिस प्रकार मंत्रिमण्डल का प्रधान प्रधानमंत्री होता है उसी प्रकार जहाज का प्रमुख कप्तान होता है।
18. $8 \times 2.5 = 20$
 $14 \times 2.5 = 35$
19. $(3)^3 = 27$
 $\therefore (5)^3 = 125$
20. जिस प्रकार, $(4+5+6) - (1+2+3) = 9$
उसी प्रकार $(10+11+12) - (7+8+9) = 9$
21. इसे इस प्रकार समझाया जा सकता है।
 $5 \times 3 + 4 = 19$
 $7 \times 5 + 6 = 41$
 $6 \times 4 + 5 = 29$
22. $21 + 31 = 52$
 $39 + 46 = 85$
 $\therefore 16 + 83 = 99$
23. इसका सम्पूर्ण ग्राफ इस प्रकार होगा-
सलीम > शंकर > सिमॉन
सलीम > सुरेश > शंकर
दोनों शतों को मिलाने पर हम पाते हैं कि इन सबमें सबसे बड़ा सलीम है।
24. पांचों बच्चों को बिठाने की स्थिति इस प्रकार है-
- ग क ड घ ख
25. चूंकि राम की उम्र अभी 16 साल है एवं राजीव की उम्र 18 साल है, इसलिए 6 साल बाद दोनों की उम्र को मिलाकर 12 वर्ष की वृद्धि होगी।
 $(16 + 18 + 12 = 46 \text{ वर्ष})$

26. जिस प्रकार, $(2 \times 3)^2 = 36$
 $(5 \times 4)^2 = 400$
 $(6 \times 2)^2 = 144$
 $(3 \times 3)^2 = 81$
 इसी प्रकार, $(5 \times 5)^2 = 625$

27. a a b a b a a b a b a b a b a b
 उपर्युक्त शृंखला में a a b a b की पुनरावृत्ति हो रही है, अतः रिक्त स्थानों पर a a a b a रखने पर शृंखला पूर्ण हो जायेगी।

28. शृंखला निम्नवत् होगी -


- अतः रिक्त स्थान पर लुप्त अंक 255 होगा।
 29. दी गई अक्षर शृंखला निम्नवत् है -

- 4 16 36 (64) 100
 ↓ ↓ ↓ ↓ ↓
 2^2 4^2 6^2 8^2 10^2

- अतः रिक्त स्थान पर 64 होगा
 30. पत्ती, तना तथा शाखाएं ये सभी पेड़ के भाग हैं जबकि बाग इनसे भिन्न है।

31. बवासीर, मधुमेह तथा बुखार की श्रेणी में आने वाली बीमारी सरदर है क्योंकि शेष सभी विकल्प अपंगता को दर्शाते हैं।

32. मग, कप, गिलास की श्रेणी में आने वाला विकल्प बाल्टी है।

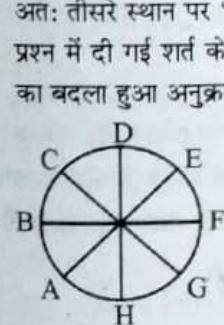
33. दिए गए शब्दों को सार्थक क्रम में व्यवस्थित करने पर -
 रोग → डॉक्टर → इलाज → औषधि → निदान
 अतः अभीष्ट क्रम 3, 2, 1, 5, 4 होगा।

34. दिए गए शब्दों को सार्थक क्रम में व्यवस्थित करने पर -
 बीज → पौधा → पेड़ → फूल → फल
 अतः अभीष्ट क्रम 2, 5, 1, 3, 4 होगा।

35. दिए गए शब्दों को शब्दकोश क्रम में व्यवस्थित करने पर -
 Garrison → Gastritis → Gatecrash → Gauntlet
 अतः तीसरे स्थान पर 'Gatecrash' आएगा।

36. दिए गए शब्दों को शब्दकोश क्रम में व्यवस्थित करने पर -
 Hay → Hick → Hide → High
 अतः तीसरे स्थान पर 'Hide' आएगा।

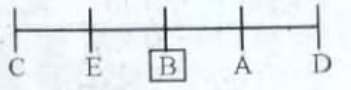
37. प्रश्न में दी गई शर्त के अनुसार A, B, C, D, E, F, G, तथा H के बैठने का बदला हुआ अनुक्रम निम्नवत् होगा-



- अतः विकल्प सत्य (A) है।
 38. पहली शर्त से → काथिर > गणेश
 दूसरी शर्त से → गणेश > अप्पारू
 तृतीय शर्त से → राजू > अप्पारू
 चतुर्थ शर्त से → गणेश > राजू

सभी शर्तों को एक साथ लिखने पर -
 काथिर > गणेश > राजू > अप्पारू
 अतः सबसे बड़ा काथिर है।

39. प्रश्नानुसार सुंदरता का क्रम निम्न होगा -
 K और Y, B से ज्यादा सुंदर है जबकि B, J से ज्यादा सुंदर है अर्थात्
 $K > B > J$ अतः सबसे निचले स्तर पर सुंदर J है।

40. 
 अतः बीच में 'B' बैठा है।

41. जिस प्रकार $(6 + 4 + 2 + 0) - 2 = 10$
 $(10 + 8 + 6 + 2) - 2 = 24$
 उसी प्रकार $(10 + 12 + 14 + 4) - 2 = 38$

42. जिस प्रकार $\sqrt{4 \times 9} = \sqrt{36} \Rightarrow 6$
 $\sqrt{16 \times 9} = \sqrt{144} \Rightarrow 12$
 उसी प्रकार $\sqrt{16 \times x} = 20$
 दोनों तरफ वर्ग करने पर

- $16x = 400 \quad x = \frac{400}{16} \Rightarrow 25$

43. शब्द JACOB को वर्णमाला के उल्टे क्रम में बदल दिया गया है। अर्थात्
 (वर्णमाला के सीधे क्रम में) (वर्णमाला के उल्टे क्रम में)

- 10 1 3 15 2 10 1 3 15 2
 J A C O B → Q Z X L Y

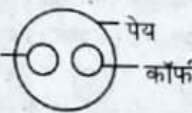
- उसी प्रकार
 (वर्णमाला के सीधे क्रम में) (वर्णमाला के उल्टे क्रम में)

- 11 5 14 4 25 11 5 14 4 25
 K E N D Y → P V M W B

44. ∴ महीने की 2 तारीख को रविवार है।
 ∴ महीने की 9, 16, 23 तथा 30 को भी रविवार ही होगा, तथा उसी माह की 31 तारीख को सोमवार होगा।

45. चूंकि A की माता, B के पिता की एकमात्र पुत्री है, अतः B पुरुष तथा A का मामा हुआ। B की पत्नी A की मामी हुई।

46. लोगों में नागरिक तथा नागरिकों में कुछ शिक्षित होते हैं अतः विकल्प (D) सत्य है।

47. 
 उपर्युक्त चित्र चाय, कॉफी एवं पेय के बीच सही संबंध को प्रदर्शित करता है।

48. बहुत सारे पशु पालतू होते हैं उनमें कुछ कुत्ते तथा कुछ बिल्लियां भी पालतू होते हैं।

49. प्रश्नगत कथनानुसार सभी तस्वीरें चित्रकला हैं और कोई चित्रकला सस्ती नहीं है। इससे यह निष्कर्ष तो स्पष्टतः प्राप्त हो रहा है कि कोई तस्वीर सस्ती नहीं है। परंतु यह निष्कर्ष कि सभी चित्रकलाएं तस्वीरें भी हैं, कथन द्वारा समर्थित नहीं है।

50. पैदल स्कूल जाने वाले छात्रों का केन्द्रीय संगत कोण = 75°
 $\therefore 75^\circ = \frac{48}{360} \times 75 \Rightarrow 10$